



Der kleine Rabe Socke und Eddi-Bär streiten sich darüber, wer mehr Eiskugeln hat.



1. Sie überlegen, ob die eine Menge kleiner, gleich groß oder größer als die andere Menge ist. Hilf ihnen dabei.

○ ○ ○ ○ ○ ___ ○ ○ ○	○ ○ ___ ○ ○ ○ ○	○ ___ ○ ○ ○
○ ○ ○ ○ ___ ○	○ ○ ___ ○ ○	○ ○ ○ ○ ○ ○ ___ ○ ○
○ ○ ○ ___ ○ ○ ○	○ ○ ○ ___ ○ ○ ○ ○	○ ○ ___ ○ ○ ○
○ ○ ○ ○ ○ ___ ○	○ ___ ○ ○	○ ___ ○ ○ ○

2. Schreibe die Zeichen <, = oder > auf die Linien.

1 ___ 3	2 ___ 1	4 ___ 5	3 ___ 3
4 ___ 3	2 ___ 2	1 ___ 5	3 ___ 2
0 ___ 2	5 ___ 1	2 ___ 4	0 ___ 1
5 ___ 3	4 ___ 0	4 ___ 1	0 ___ 0

Fertig? Dann male Feld 9 in deinem Rechenpass an.











1. Der kleine Rabe Socke möchte ein Bild malen. Hilf ihm dabei.


2. Was könnte der kleine Rabe Socke noch malen wollen?


Male es neben die Zahlen und dann in der richtigen Anzahl in das Bild.



1		✓	6
2		✓	7
3			8
4			9
5			10 







Fertig? Dann male Feld 12 in deinem Rechenpass an.





Hilf Frau Dachs beim Zählen.



1. Wie viele Eimer schleppen der kleine Rabe Socke und Eddi-Bär?

Sie schleppen ____ Eimer.

Male noch 5 Eimer dazu.

2. Wie viele Tiere sind auf dem Bild?

Es sind ____ Tiere.

Male noch 3 Tiere dazu.



3. Wie viele Bauklötze hat der kleine Rabe Socke?

Er hat ____ Bauklötze.

Male noch 2 Bauklötze dazu.

Fertig? Dann male Feld 25 in deinem Rechenpass an.

