

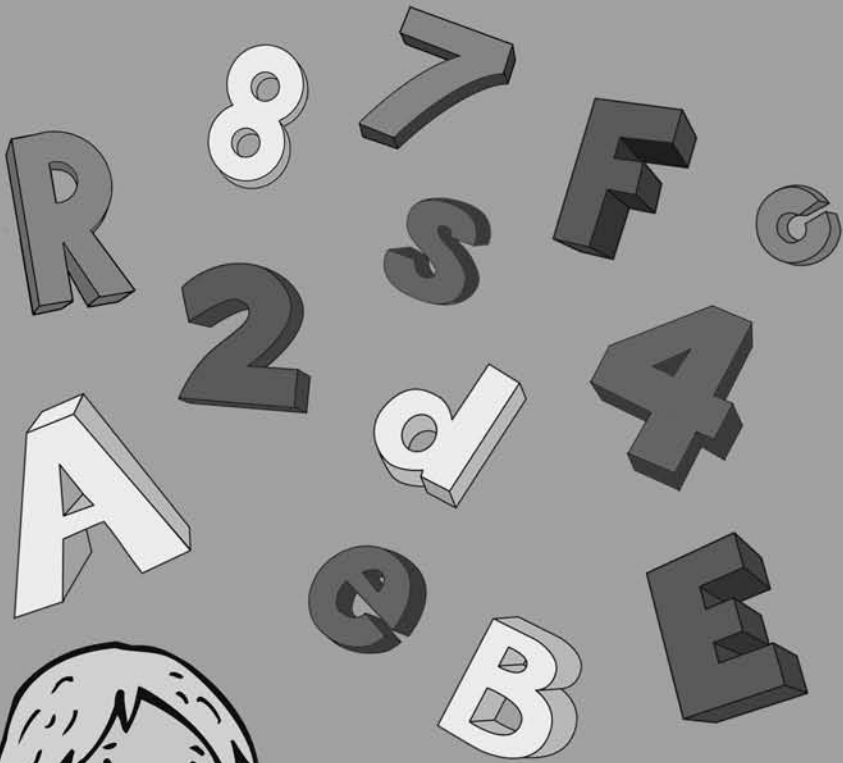
Mein Übungsblock

1. Klasse

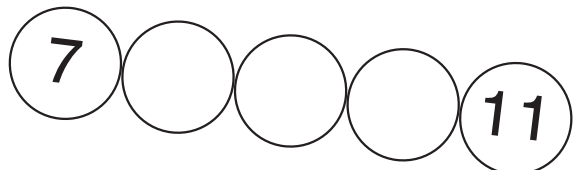

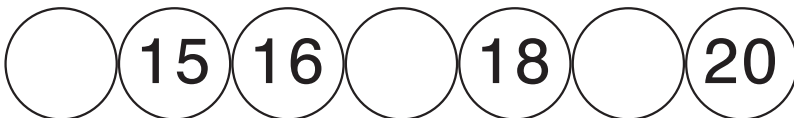





Mathe &
Deutsch



Mathe



Trage die fehlenden Zahlen ein.





Lösungen

1 2 3

6 7 8

10 11 12 13

14 15 16 17 18

5 6 7 8

8 9 10 11


14 15 16 17 18 19 20

0 1 2

7 8 9 10 11

Rechne immer +2.


Schreibe die Ergebnisse
in die grauen Kästchen.




		<input type="text"/>	<input type="text"/>	<input type="text"/>	<input type="text"/>		
		0	1	3	12		
<input type="text"/>	11					7	<input type="text"/>
<input type="text"/>	13					9	<input type="text"/>
<input type="text"/>	9					2	<input type="text"/>
<input type="text"/>	17					14	<input type="text"/>
<input type="text"/>	15					4	<input type="text"/>
<input type="text"/>	7					8	<input type="text"/>
<input type="text"/>	3					6	<input type="text"/>
		18	<input type="text"/>				
		10	16	5	4		
		<input type="text"/>	<input type="text"/>	<input type="text"/>	<input type="text"/>		



Lösungen



Rechne die Aufgaben.



$4 + \square = 9$

$\square + 8 = 12$

$7 + \square = 15$

$\square + 3 = 6$

$3 + \square = 8$

$\square + 5 = 11$

$2 + \square = 11$

$\square + 7 = 13$

$1 + \square = 10$

$\square + 4 = 9$

$5 + \square = 12$

$\square + 6 = 15$

$6 + \square = 9$

$\square + 3 = 8$

$4 + \square = 7$

$\square + 2 = 16$

$7 + \square = 10$

$\square + 0 = 4$

$2 + \square = 18$

$\square + 3 = 3$

$9 + \square = 18$

$\square + 8 = 11$





Lösungen

$4 + \boxed{5} = 9$

$7 + \boxed{8} = 15$

$3 + \boxed{5} = 8$

$2 + \boxed{9} = 11$

$1 + \boxed{9} = 10$

$5 + \boxed{7} = 12$

$6 + \boxed{3} = 9$

$4 + \boxed{3} = 7$

$7 + \boxed{3} = 10$

$2 + \boxed{16} = 18$

$9 + \boxed{9} = 18$

$\boxed{4} + 8 = 12$

$\boxed{3} + 3 = 6$

$\boxed{6} + 5 = 11$

$\boxed{6} + 7 = 13$

$\boxed{5} + 4 = 9$

$\boxed{9} + 6 = 15$

$\boxed{5} + 3 = 8$

$\boxed{14} + 2 = 16$




$\boxed{4} + 0 = 4$

$\boxed{0} + 3 = 3$

$\boxed{3} + 8 = 11$




Male das kleinste Tier jeder Art gelb an
und das größte Tier rot.

Wie viele Tiere sind es insgesamt von jeder Art?
Schreibe die Anzahl in das Kästchen.



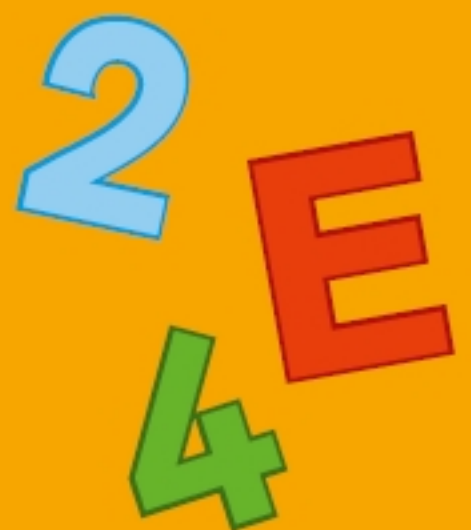
Mein Übungsblock 1. Klasse

Blatt für Blatt besser in Mathe und Deutsch:

-  Kurze und spannende Aufgaben
-  Lösungen gleich auf der Rückseite
-  Abwechslungsreiches Üben

So wirst du ein echter Mathe- und Deutschprofi!

Außerdem erhältlich:



© 2012 TES SLOFF VERLAG
Burgschmietstraße 2-4, 90419 Nürnberg

ISBN 978-3-7886-2524-5



01/12

€ [D] 4,95
€ [A] 5,10



Illustration: Peter Pfeiffer und Christopher Brey
Autorin: Birgit Fuchs

Die Verbreitung dieses Werkes oder von Teilen daraus durch Film, Funk oder Fernsehen, den Nachdruck, die fotomechanische Wiedergabe sowie die Einspeicherung in elektronische Systeme sind nur mit Genehmigung des Tessloff Verlages gestattet.

Gedruckt in Deutschland.

www.tessloff.com

