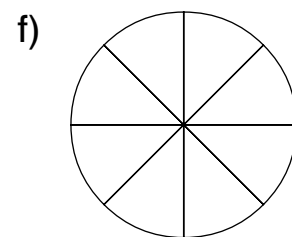
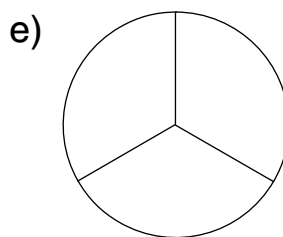
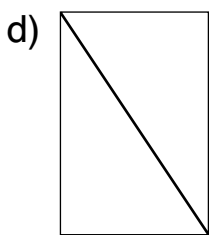

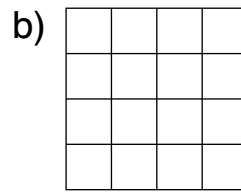
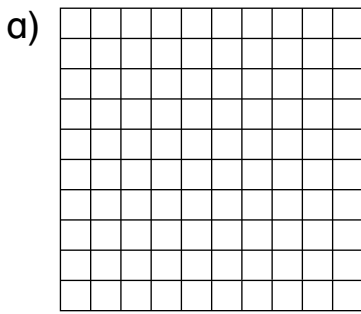
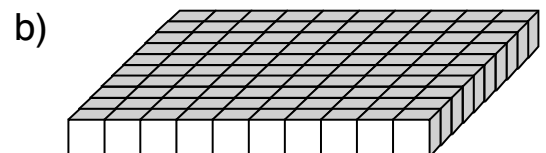
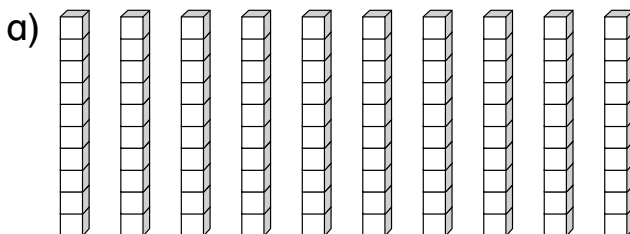


1 Male jeweils 100 % aus.



2 Male jeweils 1 % aus.



3 Male 1 % der Rechteckfläche aus.

**Tipp: Lege ein Lineal an und orientiere dich an den Markierungen.**





- 1 Landwirt Erdogan besitzt 100 ha Ackerland. Davon hat er 9 % mit Zuckerrüben bestellt.

Frage: \_\_\_\_\_

Rechnung:

	Prozent	ha
↙ ↘		
↙ ↘		
↙ ↘		

Antwort: \_\_\_\_\_

- 2 Im Kunstunterricht wird mit Gips gearbeitet. In einer Tüte sind 250 g. Davon werden für den Arbeitsauftrag 15 % benötigt.

Frage: \_\_\_\_\_

Rechnung:

	Prozent	g
↙ ↘		
↙ ↘		
↙ ↘		

Antwort: \_\_\_\_\_

- 3 Frau Thom zahlt monatlich 550 € Miete. Davon entfallen 22 % auf die Nebenkosten für Wasser, Heizöl und Müllabfuhr.

- 4 Marie möchte im nächsten Jahr mit ihrer Freundin eine Flugreise in die USA machen. Diese kostet 1 250 €. 65 % des Betrages hat sie bereits gespart.

- a) Über wie viel Geld verfügt sie bereits?  
b) Wie viel muss Marie noch sparen?

- 5 Ein Fußballstadion mit 45 200 Plätzen ist zu 90 % ausverkauft.  
Wie viele Eintrittskarten können noch verkauft werden?

