

Textaufgaben

2. Klasse



gemeinsam
wachsen lernen

hauschkaverlag

Inhaltsverzeichnis

Vorwort	erste Seite
Rechnen bis 20	Aufgabennummern
Im Tierpark	
Zusammenzählen und abziehen	1-20
Kleine Pause	21
Kindergeburtstag	
Zusammenzählen und abziehen	22-42
Rechnen bis 100	
Geld	
Ordnen und rechnen mit Geldbeträgen, Kommaschreibweise	43-58
Kleine Pause	45, 47, 56
So geht es leichter:	
Skizzen als Lösungshilfen/Tabellen als Lösungshilfen	59-73
Kleine Pause	74
Längenmaße	
Messen und rechnen (Meter und Zentimeter)	75-92
Kleine Pause	93
Uhr und Kalender	
Zeitpunkte und Zeitdauer	94-119
Malnehmen und teilen	
Mal- und Geteiltaufgaben rund um die Kernaufgaben	120-147
Kleine Pause	148
Vorsicht, hier will dich jemand verwirren!	
Wichtige Informationen von unwichtigen unterscheiden	149-152
Juhu, Ferien!	
Komplexe Aufgaben	153-155
Jetzt bin ich fit:	
Test 1/Test 2/Test 3	156-176
Herausnehmbarer Lösungsteil in der Heftmitte	nach Aufgabe 80

Hauschka Lernhilfen, Heft 52
© 2021 Hauschka Verlag
Lilienthalstr. 1, 82178 Puchheim
Telefon +49 89 8940667-0
Fax +49 89 8940667-69
E-Mail: info@hauschkaverlag.de
www.hauschkaverlag.de

Verfasserin: Heike Hünemann-Rottstegge, Karlsfeld
Lektorat: Agnes Spiecker, Freising
Illustrationen: Gisela Specht, Weßling;
Martina Knapp, Wuppertal
Gestaltung und Layout: Redaktion Hauschka Verlag
Druck: PASSAVIA Druckservice GmbH & Co. KG, Passau
Printed in Germany. Alle Rechte vorbehalten.
ISBN 978-3-88100-052-9

Rechnen bis 100: Geld



In diesem Kapitel musst du **bis 100 rechnen** können! Verwende dein Rechengeld und lege die Aufgaben damit nach!

43



Micha

Ich habe mehr Geld als du! Ich habe 6 Geldstücke. Du hast nur 1 Geldstück.



Ich habe trotzdem mehr Geld!



Anne

► Wer hat Recht, Micha oder Anne? Erkläre warum!

Tipp: Wechsle Annes  -Stück in  -Stücke und zeichne sie auf! Vergleiche dann ihr Geld mit Michas Geld.

44 Welche Geldstücke brauchst du, um zu bezahlen?

Nimm möglichst wenige Geldstücke. Trage ein:

							
	Schreibe so:						
47 ct	0	0	2	0	1	1	0
54 ct							
82 ct							
100 ct							
27 ct							

63 a) Wie viel muss Peter bezahlen? **b)** Wie viel bezahlt Marie?

Pizza: 3 €

Saft: 2 €

Hörnchen: 2 €

Wasser: 1 €



Peter

Ich möchte ein Wasser, einen Saft
und zwei Hörnchen.

Bitte eine Pizza, 3 Säfte
und 2 Wasser.



Marie

64 Marcel hat 31 € gespart. Zum Geburtstag bekommt er von seiner Tante 10 € und von Oma auch 10 €.

► Wie viel Geld hat Marcel jetzt?

65 Die Lehrerin kauft 3 Bücher für je 8 €, ein Lineal für 3 € und einen Füller für 5 €.

► Wie viel muss sie bezahlen?

66 Susi hat 15 €. Davon kauft sie sich eine Tasche für 4 € und einen Schal für 7 €.

► Wie viel Geld bleibt ihr übrig?

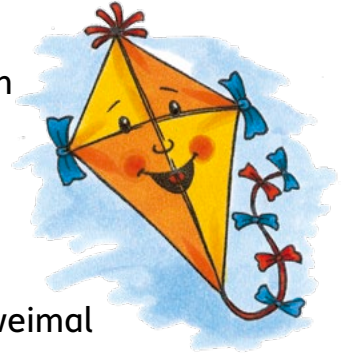
67 Im Bus sitzen 14 Leute. An der 1. Haltestelle steigen 5 Leute aus und an der 2. Haltestelle 3 ein.



► Wie viele Leute sitzen nun im Bus?

87 Die Lehrerin hat für jedes Kind einen 1 m langen Holzstab gekauft. Damit darf jeder basteln, was er will.
 ▶ Wie viele cm bleiben den Kindern von ihren Stäben übrig?

- a) Peter baut einen Drachen.
 Er schneidet zuerst 55 cm ab und dann noch 34 cm.
- b) Tim sägt für einen Pfeil einmal 46 cm und zweimal 15 cm ab.
- c) Anne braucht für eine Puppenleiter zweimal 25 cm und 5 Stücke mit jeweils 5 cm.



88 a) Verbinde jedes Kind mit der richtigen Größenangabe!



1 m 13 cm

1 m 25 cm



1 m 40 cm

1 m 52 cm



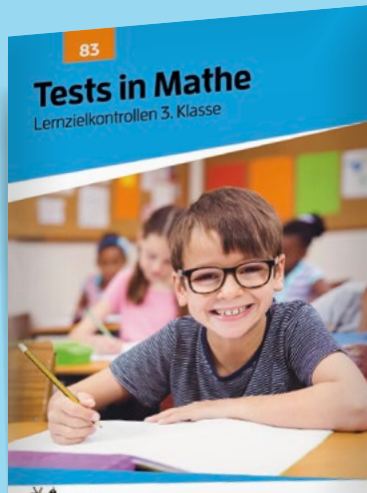

b) Wer ist wer? Paul ist größer als Jan und Micha. Jan ist nicht der kleinste. Chris ist größer als Paul.
 Schreibe die Namen unter die Kinder!

Üben, lernen und Spaß haben mit weiteren Titeln aus dem Hauschka Verlag:



für die 2. Klasse

für die 3. Klasse



Lernzielkontrollen:
Gibt's für die 1.-4. Klasse!



regional
produziert



natürliche Farben
auf Pflanzenölbasis



recyclbar über
die Papiertonne

Textaufgaben

2. Klasse

- kindgemäße Aufgaben, thematisch geordnet
- viele Illustrationen zum besseren Textverständnis
- lehrplanorientiert
- Rechnen mit Größen: Geld, Längen, Uhr und Kalender
- zum selbstständigen Arbeiten geeignet
- mit herausnehmbarem Lösungsteil



Noch mehr Titel unter
www.hauschkaverlag.de

ISBN 978-3-88100-052-9



9 783881 000529

[D] € 7,90
[A] € 8,10