


Mathe trainieren

1. Klasse



gemeinsam
wachsen lernen

hauschkaverlag

Inhaltsverzeichnis

Vorwort	1	Gemischte Aufgaben	39
Zahlen bis 10		Muster fortsetzen	47
Zahlen schreiben	2	Test 3	48
Zählen, Zahlen einordnen und vergleichen	4	Geld und Sachaufgaben	
Links oder rechts?	6	Münzen und Scheine	50
Muster fortsetzen	8	Rechnen mit Geld	52
Test 1	9	Sachaufgaben	54
Rechnen bis 10		Zahlenrätsel	59
Plusaufgaben	10	Test 4	60
Puzzleteile zuordnen	14	Geometrie	
Minusaufgaben	15	Flächenformen	62
Muster fortsetzen	17	Test 5	65
Gemischte Aufgaben	18	Uhr und Uhrzeit	
Test 2	26	Uhrzeiten lesen und einstellen	66
Knobelaufgabe	28	Mit Uhrzeiten rechnen	68
Zahlen bis 20		Muster fortsetzen	69
Bündeln	29	Test 6	70
Zahlen darstellen, verbinden, einordnen und vergleichen	30	Ausblick 2. Klasse	
Rechnen bis 20		Punkte verbinden bis 100	71
Kleine und große Aufgaben	32	Begriffe und Tipps	72
Zehnerübergang mit +	34	Stichwortverzeichnis	74
Zehnerübergang mit –	37	Puzzleteile zu Aufg. 37 und 71	75
		Herausnehmbarer Lösungsteil	
		in der Heftmitte nach Seite	38

Lieber Zahlenfreund,

mit diesem Trainingsheft kannst du entdecken, wie spannend Zahlen sind, und Rechnen üben. Denn Denken, Knobeln und Malen macht dir sicher Spaß!

Die Aufgaben mit 👑 sind ein bisschen schwieriger. Die **Tests** zwischendurch können dir zeigen, wie gut du dich auskennst.

In der Heftmitte findest du alle **Lösungen mit Erklärung** zum Herausnehmen und eine URKUNDE! Löse immer zwei Seiten und kontrolliere sie. Dann darfst du die Nummer der rechten Seite auf der Urkunde suchen und mit der vorgegebenen Farbe anmalen.

Auf Seite 72 und 73 findest du wichtige **Begriffe** erklärt und ein paar **Rechentipps**.

Viel Freude damit


wünscht dir

Helena Heiß

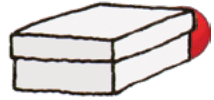
Hallo Kinder!
Ich bin Coco und übe mit dir.
Ich erkläre dir die Aufgaben mit
Beispielen. Manchmal habe ich
auch einen Tipp für dich!
Auf geht's!



16 Wo ist die Kugel? Verbinde mit dem Bild.




auf der Box

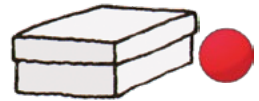


hinter der Box

in der Box



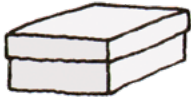
rechts neben
der Box




links neben
der Box



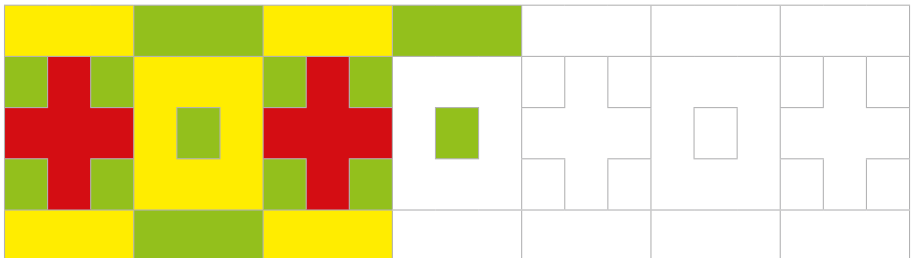
unter der Box



über der Box



17 Male das Muster weiter an.
Achte genau auf die Farben.



32 Tempo-Rechnen

$$\begin{array}{r}
 5 - 2 = \underline{\quad} \quad 9 - 3 = \underline{\quad} \\
 7 - 5 = \underline{\quad} \quad 4 - 1 = \underline{\quad} \\
 4 - 2 = \underline{\quad} \quad 5 - 3 = \underline{\quad} \quad 7 - 3 = \underline{\quad} \\
 9 - 4 = \underline{\quad} \quad 3 - 2 = \underline{\quad} \quad 10 - 8 = \underline{\quad} \\
 10 - 5 = \underline{\quad} \quad 9 - 7 = \underline{\quad} \quad 2 - 2 = \underline{\quad} \\
 6 - 3 = \underline{\quad} \quad 5 - 4 = \underline{\quad} \quad 8 - 4 = \underline{\quad} \\
 8 - 3 = \underline{\quad} \quad 10 - 6 = \underline{\quad} \quad 9 - 6 = \underline{\quad}
 \end{array}$$

Wie schnell bist du bei Minusaufgaben? Stoppe wieder die Zeit!



Zeit: Minuten und Sekunden / Fehler

Tipp: Rechne gleich morgen noch einmal!

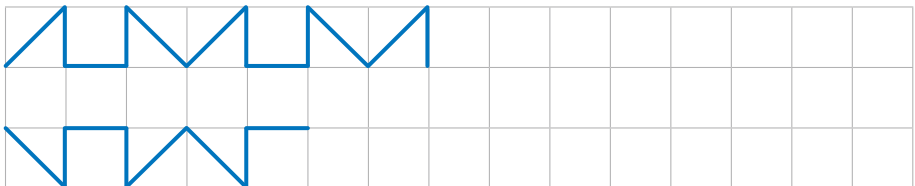
Decke dazu deine Lösungen ab! Kannst du dich verbessern?

33 Pfeilaufgaben

Der Pfeil oben zeigt, wie viel weg muss.

	-3		-2		-5
	↘		↘		↘
4	1	6		8	
9		8		10	
7		10		7	

























34 Zeichne das Muster selbst genauso weiter.












50 Zum Knobeln: Findest du alle Zahlen heraus?

Jedes Tier steht für eine andere Ziffer von 1 bis 9.

Achte auf das Rechenzeichen: + oder - .

 3	+	 1	=	 4				
 4	+	 3	=	 <input type="text"/>				
 <input type="text"/>	-	 <input type="text"/>	=	 <input type="text"/>				
 <input type="text"/>	+	 <input type="text"/>	=	 <input type="text"/>  <input type="text"/>				
 <input type="text"/>	+	 <input type="text"/>	=	 <input type="text"/>				
 <input type="text"/>	+	 <input type="text"/>	+	 <input type="text"/>	+	 <input type="text"/>	=	 <input type="text"/>
 <input type="text"/>	-	 <input type="text"/>	=	 <input type="text"/>				

► Trage die Ziffer von jedem Tier hier ein.

 3	 4	 <input type="text"/>	 <input type="text"/>	 <input type="text"/>
 1	 <input type="text"/>	 <input type="text"/>	 <input type="text"/>	


Test 6: Uhrzeiten

Punkte:


1 Trage die fehlenden Zeiger oder Uhrzeiten ein.



___ Uhr



17 Uhr




8 Uhr



___ Uhr

○ /4

2 Wie lange dauert es?

	+ ___ Stunden	
Die Schule beginnt.	→	Die Schule ist aus.
14:00	+ ___ Stunden	16:00
Das Kino beginnt.	→	Das Kino ist aus.
	+ ___ Stunden	
Ich gehe abends schlafen.	→	Ich wache morgens auf.


○ /3

Gesamt:

○ /7

**Toll! Das war der letzte Test!
Jetzt kannst du die Uhr bestimmt gut lesen!**

Üben, lernen und Spaß haben mit weiteren Titeln aus dem Hauschka Verlag:



für die 1. Klasse

für die 2. Klasse



Bilderverzeichnis:

- S. 15 Eis:
ODV: © istock.com
FreeSoulProduction: © istock.com
FreeSoulProduction: © istock.com
caesargfx: © istock.com
- S. 18 Kuchen: SvetlanaKoryakova: © istock.com
- S. 18 Streichholz: craftvision: © istock.com
- S. 18 Mädchen: nicolesy: © istock.com
- S. 18 Vögel: mumideniz: © istock.com
- S. 18 Küken:
Tsekhmister: © istock.com
Studio-Annika: © istock.com
anzeletti: © istock.com
- S. 67 Uhren:
dandanian: © istock.com
Hajohoos: © istock.com
sumos: © istock.com
sankai: © istock.com
- S. 75 Hase: yyv_yyv: © istock.com



Mathe trainieren

1. Klasse

- alle wichtigen Bereiche aus dem Mathematikunterricht
- lehrplanorientiert
- vielseitige und spielerische Aufgaben
- zum selbstständigen Arbeiten geeignet
- mit Urkunde als Belohnung
- mit herausnehmbarem Lösungsteil

Noch mehr Titel unter
www.hauschkaverlag.de

ISBN 978-3-88100-071-0



9 783881 000710

[D] € 7,90
[A] € 8,10